

Lista de cumpărături a lui Ozobot

- 1 Ozobot se duce repede la magazin. Are nevoie de 12 mere pentru o plăcintă cu mere. Ozobot pune 5 mere în coș.

De câte mere mai are nevoie Ozobot?

- 2 Ozobot are nevoie de 15 ouă. Ozobot se rotește și vede o cutie cu 12 ouă.

De câte ouă mai are nevoie Ozobot?

- 3 Ozobot merge înapoi la standul de pește. Are nevoie de 7 pești.

Găsește 4 pești; de câți mai are nevoie?















- 4 Ultimele pe lista de cumpărături sunt brișele. Ozobot are nevoie de brișe pentru 9 oameni dar brișele vin în cutii de 18 bucăți. Ozobot face un zigzag căutând brișele!

Câte brișe îi mai rămân lui Ozobot?

- 5 Ozobot se duce încet la casă să plătească pentru cumpărături. Totalul de plată este de 13 lei. Ozobot plătește 20 de lei.

Câți lei primește Ozobot ca rest?

Coduri de culoare

 Rotire  G R G R	 Tornadă  R G R G	 Zigzag  B BK G R	 Mers înapoi  R G BK B
 Turbo  B G B	 Viteză constantă  G BK G	 Lent  R BK R	

1 - =



2 - =



3 - =



4 - =



5 - =

